



# HÜRRİYET İLKOKULU UZAKTAN EĞİTİM 1.SINIF FASİKÜLÜ



## Verilen Kelimelerle Cümleleri Tamamlama Etkinliği

olmuş-düştü-sevmiyor-gelecekmiş-yapmadı	
1	Selami bisikletten .....
2	Orhan ödevini .....
3	Leman limon .....
4	Eda otobüsle .....
5	Sami öğretmen .....

yapmış-ekecek-geldi-oyunuyor-bitirdi	
1	Mahmut oyun .....
2	Zekeriya buğday .....
3	Adem üniversiteyi .....
4	Orhan taksiyle kaza .....
5	Nermin'in teyzesi bize .....


.....

Metni 5 defa okuduktan sonra başlığı kendimiz yazalım.



Bir zamanlar uzak ülkelerin birinde dünyalar güzeli bir kız yaşarmış. Kızın adı Defne'ymiş. Defne annesi ve babasıyla büyük bir evde mutlu bir şekilde yaşıyormuş.


Ama bazen bir arkadaşı ya da kardeşi olmadığı için kendini yalnız hissettiği de olurmuş.



Öyle zamanlarda da kedisi Pamuk ile dertleşirmiş.

# Saat Kaç?






Sevgili veliler, Lütfen çalışmadaki saatleri çocuğumuzla birlikte Matematik defterine yazalım ve saatin kaç olduğunu altına örnekteki gibi yazalım.



Saat üç.



Saat sekiz buçuk.



Evimizin içinde çeşitli oyunlar oynayabiliriz.

➤ K...rebe

➤ Elim sende

➤ Bom

➤ S...k l...m b...ç

➤ Nesi var?

➤ Sıcak- soğuk

Güvenli alanlar nereler olabilir ?

( evimiz-çocuk oyun parkı-okul bahçesi-spor salonu-  
trafiğe kapalı alanlar-halı saha )

1.

2.

3.

4.

**Güvensiz Alanlar**



( İnşaat alanları-sokak-asansör-su kanalları-bodrum katı- balkonlar  
merdiven boşlukları-trafiğe açık alanlar-çukurlar-süs havuzları )

1.

2.

3.

4.

Merdiven kullanırken ..... inip  
sağdan çıkmalıyız. Böylelikle  
karşımızdakiyle çarpışmayız.




## GEOMETRİK ÖRÜNTÜLER

Nesnelerin belirli bir kurala göre dizilmesine örüntü denir .

- \* Bir örüntüde en az iki öge bulunur ve her örüntünün bir kuralı vardır .
- \* Bir örüntünün kuralını belirlerken , nesnelerin ne zaman değiştiğine , ne zaman tekrar ettiğine bakılır .

Örnek 1° :



Kuralı ; 2 kare , 1 çember

Örnek 2° :



Kuralı ; 1 mavi çember , 2 mor çember

Örnek 3° :



Kuralı ; 1 küp , 2 çember , 1 silindir


Örnek 4° :



Kuralı ; 1 A küpü , 1 B küpü , 3 C küpü




## PARALAR ETKİNLİĞİ



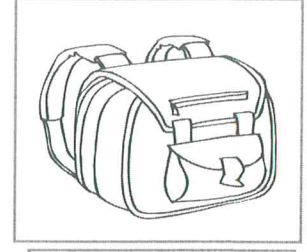
Ayı- 14 TL



Kitap- 8 TL



Boya- 5 TL



Çanta- 9 TL

- 1)Ayı ile kitabın toplam fiyatı kaç TL'dir?
- 2)Ayı ile boyanın toplam fiyatı kaç TL'dir?
- 3)Ayı ile çantanın toplam fiyatı kaç TL'dir?
- 4)Kitap ile boyanın toplam fiyatı kaç TL'dir?
- 5)Kitap ile çantanın toplam fiyatı kaç TL'dir?
- 6)Boya ile çantanın toplam fiyatı kaç TL'dir?
- 7)2 tane ayı alırsak kaç TL öderiz?
- 8)3 tane kitap alırsak kaç TL öderiz?
- 9)Ayı, kitap ve çantaya toplam kaç TL öderiz?
- 10)Tüm ürünler için kaç TL öderiz?

1-	2-	3-	4-	5-
6-	7-	8-	9-	10-



## KELİME SÖYLEME ETKİNLİĞİ

deniz → zil → lale → elek → kedi

findık →

jöle →

kalkan →

hasta →

torun →

kalay →

ders →

kel →

numara →

telefon →

yazı →



## Verilen Kelimelerle Cümleler Yazma Etkinliđi

uzay	
Güneş	
Dünya	
Ay	
gece	
roket	
yıldız	
gündüz	
sıcak	
soğuk	
gökyüzü	
teleskop	
astronot	
hayal	
masal	
kitap	
tatil	
bulut	
yağmur	
kar	
rüzgar	
okul	
çocuk	

## Duman

Duman, oynamayı çok seven bir kedidir. Yine bir gün oynamak için dışarıya çıktı. O bir köpek gördü. Birlikte oynamaya başladılar. Köpek bahçedeki ağacın arkasına saklandı. Duman onu buldu. Bu sırada köpek bağıırıp ağlamaya başladı. Köpek ayağına diken battığını söyledi. Duman, köpeğin ayağındaki dikenı çıkarmasına yardım etti. Köpek gülümseyerek Duman' a teşekkür etti. Birlikte saklambaç oynamaya devam ettiler.



- 1- Duman, .....çok seven bir kedidir.  
A) oynamayı B) uyumayı C) tırmanmayı
- 2- Köpek bahçedeki.....arkasına saklandı.  
A) kutunun B) ağacın C) evin
- 3- Duman köpeğin ayağındaki.....çıkarmasına yardım etti.  
A) taşı B) iğneyi C) dikenı

Aşağıdaki soruları cevaplayalım.

1-Duman dışarıda hangi hayvanı gördü?

- A)Keçi B) Tavuk C) Köpek

2-Duman ve köpek birlikte ne oynadılar?

- A)Ebelemece B) Saklambaç C) Koşma

Sevdiğin 3 oyunu aşağıya yazar mısın?

1- \_\_\_\_\_

2- \_\_\_\_\_

3- \_\_\_\_\_

