


















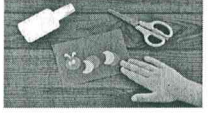





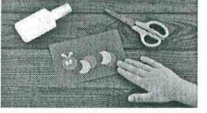


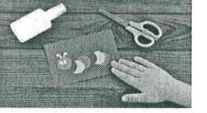


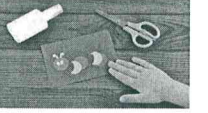



MİHALIÇÇIK- HÜRRİYET İLKOKULU

HAFTALIK DERS VE ETKİNLİK PLANI

4

PAZARTEŞİ	ŞALI	ÇARŞAMBA	PERŞEMBE	CUMA
 <p>EN GEÇ 10.00 da uyan Yatağını toparla Herkes GÜNAYDIN de En sevdiğin müziği aç Ailenle kahvaltı hazırla KAHVALTI YAP</p>	 <p>EN GEÇ 10.00 da uyan Yatağını toparla Herkes GÜNAYDIN de En sevdiğin müziği aç Ailenle kahvaltı hazırla KAHVALTI YAP</p>	 <p>EN GEÇ 10.00 da uyan Yatağını toparla Herkes GÜNAYDIN de En sevdiğin müziği aç Ailenle kahvaltı hazırla KAHVALTI YAP</p>	 <p>EN GEÇ 10.00 da uyan Yatağını toparla Herkes GÜNAYDIN de En sevdiğin müziği aç Ailenle kahvaltı hazırla KAHVALTI YAP</p>	 <p>EN GEÇ 10.00 da uyan Yatağını toparla Herkes GÜNAYDIN de En sevdiğin müziği aç Ailenle kahvaltı hazırla KAHVALTI YAP</p>
 <p>Sofrayı toparla Evi toparla Ailene yardım et 😊</p>	 <p>Sofrayı toparla Evi toparla Ailene yardım et 😊</p>	 <p>Sofrayı toparla Evi toparla Ailene yardım et 😊</p>	 <p>Sofrayı toparla Evi toparla Ailene yardım et 😊</p>	 <p>Sofrayı toparla Evi toparla Ailene yardım et 😊</p>
 <p>Eba tv ders saatine kadar 15 sayfa kitap oku</p>	 <p>Eba tv ders saatine kadar 15 sayfa kitap oku</p>	 <p>Eba tv ders saatine kadar 15 sayfa kitap oku</p>	 <p>Eba tv ders saatine kadar 15 sayfa kitap oku</p>	 <p>Eba tv ders saatine kadar 15 sayfa kitap oku</p>
 <p>Ders ortamını hazırla 12.00 ve 12.30 eba tv izle</p>	 <p>Ders ortamını hazırla 12.00 ve 12.30 eba tv izle</p>	 <p>Ders ortamını hazırla 12.00 ve 12.30 eba tv izle</p>	 <p>Ders ortamını hazırla 12.00 ve 12.30 eba tv izle</p>	 <p>Ders ortamını hazırla 12.00 ve 12.30 eba tv izle</p>
 <p>EV ÖDEVİ Eğitimhane, Eba, Okulistik veya Whatsaptan gönderilen ödev varsa kontrol et, apacaklarını sıraya koy. Hazırlıklarını tamamlama.</p>	 <p>EV ÖDEVİ Eğitimhane, Eba, Okulistik veya Whatsaptan gönderilen ödev varsa kontrol et, yapacaklarını sıraya koy. Hazırlıklarını tamamlama.</p>	 <p>EV ÖDEVİ Eğitimhane, Eba, Okulistik veya Whatsaptan gönderilen ödev varsa kontrol et, yapacaklarını sıraya koy. Hazırlıklarını tamamlama.</p>	 <p>EV ÖDEVİ Eğitimhane, Eba, Okulistik veya Whatsaptan gönderilen ödev varsa kontrol et, yapacaklarını sıraya koy. Hazırlıklarını tamamlama.</p>	 <p>EV ÖDEVİ Eğitimhane, Eba, Okulistik veya Whatsaptan gönderilen ödev varsa kontrol et, yapacaklarını sıraya koy. Hazırlıklarını tamamlama.</p>
 <p>*15 DK MOLA VER</p>	 <p>*15 DK MOLA VER</p>	 <p>*15 DK MOLA VER</p>	 <p>*15 DK MOLA VER</p>	 <p>*15 DK MOLA VER</p>
 <p>Öğretmenin verdiği Türkçe ödevini yap, yanlışlarını kontrol et. anlamadığın yerleri not al, öğretmene sor. Görev tablona "GÖREVİ TAMAMLADIM" İŞARETİ KOY.</p>	 <p>Öğretmenin verdiği Sosyal Bilgiler ödevini yap, yanlışlarını kontrol et. anlamadığın yerleri not al, öğretmene sor. Görev tablona "GÖREVİ TAMAMLADIM" İŞARETİ KOY.</p>	 <p>Öğretmenin verdiği Türkçe ödevini yap, yanlışlarını kontrol et. anlamadığın yerleri not al, öğretmene sor. Görev tablona "GÖREVİ TAMAMLADIM" İŞARETİ KOY.</p>	 <p>Öğretmenin verdiği Din Kültürü ödevini yap, yanlışlarını kontrol et. anlamadığın yerleri not al, öğretmene sor. Görev tablona "GÖREVİ TAMAMLADIM" İŞARETİ KOY.</p>	 <p>Öğretmenin verdiği Sosyal Bilgiler ödevini yap, yanlışlarını kontrol et. anlamadığın yerleri not al, öğretmene sor. Görev tablona "GÖREVİ TAMAMLADIM" İŞARETİ KOY.</p>

 <p>30dk serbest zaman (oyuncaklarıyla veya kardeşleriyle oynayabilirsin)</p>	 <p>30dk serbest zaman (oyuncaklarıyla veya kardeşleriyle oynayabilirsin)</p>	 <p>30dk serbest zaman (oyuncaklarıyla veya kardeşleriyle oynayabilirsin)</p>	 <p>30dk serbest zaman (oyuncaklarıyla veya kardeşleriyle oynayabilirsin)</p>	 <p>30dk serbest zaman (oyuncaklarıyla veya kardeşleriyle oynayabilirsin)</p>
 <p>Öğretmenin verdiği Matematik ödevini yap,yanlışlarını kontrol et.anlamadığın yerleri öğretmene sor. Görev tablona “GÖREVİ TAMAMLADIM” İŞARETİ KOY.</p>	 <p>Öğretmenin verdiği Fen ödevini yap,yanlışlarını kontrol et.anlamadığın yerleri öğretmene sor. Görev tablona “GÖREVİ TAMAMLADIM” İŞARETİ KOY.</p>	 <p>Öğretmenin verdiği Matematik ödevini yap,yanlışlarını kontrol et.anlamadığın yerleri öğretmene sor. Görev tablona “GÖREVİ TAMAMLADIM” İŞARETİ KOY.</p>	 <p>Öğretmenin verdiği İngilizce ödevini yap,yanlışlarını kontrol et.anlamadığın yerleri öğretmene sor. Görev tablona “GÖREVİ TAMAMLADIM” İŞARETİ KOY.</p>	 <p>Öğretmenin verdiği Fen ödevini yap,yanlışlarını kontrol et.anlamadığın yerleri öğretmene sor. Görev tablona “GÖREVİ TAMAMLADIM” İŞARETİ KOY.</p>
 <p>Bir saat tv,telefon ya da tabletle veli izni olan internet sitelerinde vakit geçirebilirsin.</p>	 <p>Bir saat tv,telefon ya da tabletle veli izni olan internet sitelerinde vakit geçirebilirsin.</p>	 <p>Bir saat tv,telefon ya da tabletle veli izni olan internet sitelerinde vakit geçirebilirsin.</p>	 <p>Bir saat tv,telefon ya da tabletle veli izni olan internet sitelerinde vakit geçirebilirsin.</p>	 <p>Bir saat tv,telefon ya da tabletle veli izni olan internet sitelerinde vakit geçirebilirsin.</p>
 <p>Akşam yemeği hazırlığında ailene yardım et.. Yemek sonrası sofrayı toparla.</p>  <p>Aile bireyleriylebirlikte etkinlik saati😊</p>  <p>*Saat 21.30 da uyku hazırlıklarına başla..Uyumadan önce 10 sayfa kitap oku ve en geç 22.00'da uyu..iyi geceler :)</p>	 <p>Akşam yemeği hazırlığında ailene yardım et.. Yemek sonrası sofrayı toparla.</p>  <p>Aile bireyleriylebirlikte etkinlik saati😊</p>  <p>*Saat 21.30 da uyku hazırlıklarına başla..Uyumadan önce 10 sayfa kitap oku ve en geç 22.00'da uyu..iyi geceler :)</p>	 <p>Akşam yemeği hazırlığında ailene yardım et.. Yemek sonrası sofrayı toparla.</p>  <p>Aile bireyleriylebirlikte etkinlik saati😊</p>  <p>*Saat 21.30 da uyku hazırlıklarına başla..Uyumadan önce 10 sayfa kitap oku ve en geç 22.00'da uyu..iyi geceler :)</p>	 <p>Akşam yemeği hazırlığında ailene yardım et.. Yemek sonrası sofrayı toparla.</p>  <p>Aile bireyleriylebirlikte etkinlik saati😊</p>  <p>*Saat 21.30 da uyku hazırlıklarına başla..Uyumadan önce 10 sayfa kitap oku ve en geç 22.00'da uyu..iyi geceler :)</p>	 <p>Akşam yemeği hazırlığında ailene yardım et.. Yemek sonrası sofrayı toparla.</p>  <p>Aile bireyleriylebirlikte etkinlik saati😊</p>  <p>*Saat 21.30 da uyku hazırlıklarına başla..Uyumadan önce 10 sayfa kitap oku ve en geç 22.00'da uyu..iyi geceler</p>

Cumartesi	Pazar
AİLELE KAHAVALTI YAP	AİLELE KAHAVALTI YAP
HAFTASONU VERİLEN GÖREVLERİ YAP	HAFTASONU VERİLEN GÖREVLERİ YAP
15 SAYFA KİTAP OKU	15 SAYFA KİTAP OKU
AİLELE EVDE VAKİT GEÇİR.	AİLELE EVDE VAKİT GEÇİR.
En geç 22.30'da uyumalısın 😊	En geç 22.30'da uyumalısın 😊

Hürriyet İlkokulu 4.Sınıf Uzaktan Eğitim Çalışma Kâğıdı

TÜRKÇE

Aşağıdaki cümlelerde anlatım bozuklukları bulunmaktadır. Bu bozuklukları bulunuz, cümlelerin doğrusunu alttaki boşluklara yazınız.

*Sanırım o da bizimle mutlaka koşuya gelecek.

* Buraya kadar yaya yürüyerek geldim.

*İstanbul'da pazar günü sıcaklık sıfırın altında eksi iki derecedir.

*Ablamın saçları çok hızlı çabuk büyüyor.

* Bahçeye henüz yeni çıkmıştım ki annem eve çağırdı.

* Derslerine karşı ilgisiz ve alakasız olduğundan başarısız oluyor.

* Piknikte kek ve meyve suyu içtik.

* Babam genellikle her zaman kitap okur.

SOSYAL BİLGİLER

Aşağıdaki yazıyı Sosyal Bilgiler defterine yazınız

Bilinçli Tüketici Olalım.

Bir mal ya da hizmet satın alırken temel gereksinimlerini ön planda tutan, alınacak malın kaliteli, güvenli ve ucuz olmasına dikkat eden, tüketici haklarını bilen, israf etmeyen kişilere **bilinçli tüketici** denir. Bilinçli tüketicinin özellikleri şunlardır:

- Alışverişten önce isteklerinden çok ihtiyaçlarına öncelik verdiği için liste yapar.
- Alacağı ürünün son kullanma tarihine dikkat eder.
- Alışverişten sonra fatura veya fiş ister.
- Ürün alırken reklamların etkisinde kalmaz.

Kusurlu ve hatalı ürünleri değiştirme süresi içinde geri vermeliyiz. Ürünleri iade almazlarsa "Tüketici Hakem Heyetine" başvurmalıyız. 175 Alo Tüketici Hattı'nı arayarak tüketici haklarımızı öğrenebiliriz.

Hürriyet İlkokulu Uzaktan Eğitim 4.Sınıf Çalışma Kâğıdı

TÜRKÇE

Aşağıdaki şiiri Türkçe Defterinize yazınız

ÇANAKKALE GEÇİLMEZ

Bütün dünya bir olup
Yüklenmişti Türk'e,
Öyle boğaz harbi ki,
Gececekti tarihe.

Saldırıyordu düşman
Sanki canavar gibi,
Ancak mümkün değildi
Geçmek tek Mehmetçiği.

"Verir miyim" diyordu
"Hiç bu cennet vatanı,
Ölürüm de bırakmam
Bir karış toprağımı".

Anlıyordu tüm dünya
Bu millete güç yetmez,
Başta Mustafa Kemal
Çanakkale geçilmez.


1-Şiire göre Türk'e yüklenen kimdi?.....

2-Şair düşmanı neye benzetiyor?.....

3-Şiire göre Mehmetçik vatan için ne diyor?.....

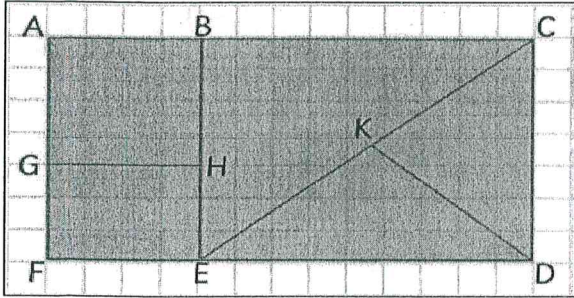
4-Son dördlükte tüm dünya neyi anlıyor?.....

5-Şiire bir dördlük de siz yazınız




MATEMATİK

1. Aşağıda kareli zeminde verilen şekildeki üçgen, kare ve dikdörtgenleri bulup, isimlerini ve kenarlarını örnekten yararlanarak tabloya yazınız.



2. Yanda verilen geometrik şekillerde köşegenleri çizerek altlarında istenilen bilgileri bulunuz.



Köşeleri:

Köşeleri:

Köşeleri:

Kenarları:

Kenarları:

Kenarları:

Köşegenleri:

Köşegenleri:

Köşegenleri:

Geometrik Şekiller	İsmi	Kenarları
Üçgen	$\triangle DCK$	[DC], [CK], [KD]
Üçgen		
Üçgen		
Üçgen		
Kare		
Dikdörtgen		
Dikdörtgen		
Dikdörtgen		
Dikdörtgen		

Aşağıda bazı üçgenlerin iç açılarının ölçüleri verilmiştir. **Dar açılı** üçgene ait ölçüleri verilen üçgenlerin yanındaki elmayı **yesile**;

Dik açılı üçgene ait ölçüleri verilen üçgenlerin yanındaki elmayı **mavive** ;

Geniş açılı üçgene ait ölçüleri verilen üçgenlerin yanındaki elmayı **sarıya** boyayınız.

90°, 45°, 45°

101°, 69°, 20°

80°, 80°, 20°

60°, 60°, 60°

120°, 30°, 30°

60°, 90°, 30°

Aşağıdaki problemleri matematik defterine yazarak çözünüz

1. İki sayının toplamı 340'tır. Büyük sayının iki katı 384 olduğuna göre iki sayının çarpımı kaçtır?

2. Bir rafın 2/5'si, içine 15 tane kalem konulan 20 kutu alıyor. Rafın tamamında kaç kalem vardır?

Hürriyet İlkokulu Uzaktan Eğitim 4.Sınıf Çalışma Kâğıdı**TÜRKÇE**

A. Aşağıda verilen terimlerin hangi alanlara ait olduğunu eşleştirerek gösteriniz.

penaltı	Müzik	melodi
açı	Spor	basamak
nota	Matematik	sol anahtarı
gezegen	Astronomi	gol
basketbol		gök taşı
dikdörtgen		bölünen

2. Seçenekteki cümlelerin hangisinde terim anlamlı kelime vardır?

- A. Yaptığı resimleri satarak geçiniyordu.
B. Bugün sınıfımızın krokisini çizdik.
C. Dedem köyden tereyağı getirmiş.
D. Yarın okullar tatil oluyor.

Stetoskop - penaltı - yaz - kaynak - bakteri
(I) (II) (III) (IV) (V)

3. Yukarıda verilen kelimelerden hangileri terim anlamlıdır?

- A. I, II B. I, II, III C. II, IV D. I, II, V

B. Aşağıda verilen sözcüklerden terim anlamlı olanları işaretleyiniz.

SORULAR

2. Aşağıdaki varlıklardan hangisinin adı terim anlamlı bir kelimedir?



4. Aşağıdaki cümlelerin hangisinde terim anlamlı bir kelime kullanılmıştır?

- A. Öğretmen matematik dersinde açı konusunu anlattı.
B. Bugün çok ders çalıştım.
C. Okulda altı ders yapıyoruz.
D. Derslerimde çok başarılıyım.

5. "teleskop" kelimesinin anlamca türü hangisidir?

- A. gerçek B. mecaz C. deyim D. terim

FEN BİLİMLERİ

Aşağıdaki yazıyı Fen Bilimleri defterine yazınız

Uygun Aydınlatma ve Göz Sağlığı

Doğru renkte ve özellikte seçilmiş en az enerji tüketen ışık kaynağı kullanılarak yapılan aydınlatmaya uygun aydınlatma denilmektedir.

Aydınlatma aracını seçerken aydınlatılacak alanın hacmine dikkat etmeliyiz. Ortamı ne gereğinden fazla ne de gereğinden az aydınlatmalıyız.

Göz sağlığımızı korumak için güneşe veya diğer ışık kaynaklarına doğrudan bakmamalıyız. Göz sağlığımız için bulunduğumuz ortamın gereğinden fazla ya da az aydınlatılmaması gerekir. Televizyon ve bilgisayar gibi güçlü ışık yayan cihazlara sürekli ve çok yakından bakmak göz sağlığımız için çok zararlıdır.

Masa lambası kullanıyorsak ışığın geliş yönünü doğru ayarlamamız gerekir. Yazı yazarken sağ elimizi kullanıyorsak ışık sol tarafımızdan gelmelidir. Sol elimizi kullanıyorsak ışık sağ tarafımızdan gelmelidir. Ayrıca ders çalışırken ve kitap okurken kitapla aramızda yaklaşık 30-40 cm mesafe bırakılmalıdır.

Hürriyet İlkokulu Uzaktan Eğitim 4.Sınıf Çalışma Kâğıdı**TÜRKÇE**

- | | |
|---|---|
| <p>1. "Karanlık" kelimesi, aşağıdaki cümlelerin hangisinde mecaz anlamda kullanılmıştır?</p> <p>A. Çok karanlık işlerin adamıdır.</p> <p>B. Karanlık odada oturuyor.</p> <p>C. Ben karanlıkta yürümekten korkmam.</p> <p>D. Hava karanlıkta olsa giderim bu diyardan.</p> | <p>5. Aşağıdakilerden hangisinde "hediye" kelimesinin eş anlamlısı kullanılmıştır?</p> <p>A. Bu iletive cevap yazın.</p> <p>B. Bu pakette neler var acaba?</p> <p>C. Kardeşim bu kutuyu açma!</p> <p>D. Senin armağanın ne kadar güzel.</p> |
| <p>2. Aşağıdaki yazılı kelime çiftlerinden hangileri arasındaki ilişki diğerlerinden farklıdır?</p> <p>A. eski - yeni B. yaş - kuru C. sıcak - soğuk D. konut - ev</p> | <p>6. "Bitmek" kelimesi, aşağıdaki cümlelerin hangisinde mecaz anlamda kullanılmıştır?</p> <p>A. Suyunu bitirmiş. B. Dinlediğim şarkı beni bitirdi.</p> <p>C. Film çabuk bitti. D. Arabada yakıt bitmişti.</p> |
| <p>3. Aşağıdaki cümlelerin hangisinde zıt anlamlı kelimeler, bir arada kullanılmıştır?</p> <p>A. İşçiler, büyük bir uyum içinde çalışır.</p> <p>B. Taşın üzerine çıkararak iri iri armut topladı.</p> <p>C. Derin derin ağlardı, şimdi sadece üzülüyor.</p> <p>D. Sert görünüşlüdür; aslında yumuşak huylu bir kişidir.</p> | <p>7. Aşağıdaki söz öbeklerinde yer alan "açık" kelimesinin açıklaması, hangi parantez içinde yanlış verilmiştir?</p> <p>A. Açık pencere (kapalı olmayan)</p> <p>B. Açık dükkan (çalışır durumda olan)</p> <p>C. Açık mavi (koyu olmayan)</p> <p>D. Açık hava (boş arazi)</p> |
| <p>4. "Ateş" kelimesi, aşağıdaki cümlelerin hangisinde " cisimlerin tutuşmasıyla ortaya çıkan ısı ve ışık " anlamında kullanılmıştır?</p> <p>A. Ormanı bir ateş yok etti.</p> <p>B. Kardeşim hasta, ateşi var.</p> <p>C. Bu aylarda ateş böceği çıkar.</p> <p>D. Şairi, aşk ateşi sarmıştı.</p> | <p>8. "Gül" kelimesi, hangi cümlede farklı anlamda kullanılmıştır?</p> <p>A. Esprisine dakikalarca güldük.</p> <p>B. O, kayıp düşünce hepimiz güldük.</p> <p>C. İnsanın kusurlarına gülünmemelidir.</p> <p>D. Bahçedeki güller solmuştu.</p> |

FEN BİLİMLERİ

Aşağıdaki yazıyı Fen Bilimleri defterine yazınız

Aydınlatma Araçlarının Yaşamımızdaki Önemi

Aydınlatma Araçları sayesinde:

- Güneş ışığından faydalanamadığımız zamanlarda evlerimizin aydınlatılması hayatımızı kolaylaştırır.
- İnsanlar gece trenle, vapurla, otobüsle ve uçakla rahatlıkla seyahat edebilmektedir.
- Fabrikaların ve işyerlerinin gece de aydınlatılması sonucu üretim yapılabilir.
- Hava karardığında bile bilimsel, kültürel ve sanatsal faaliyetler yapılabilir.
- Hastaneler, nöbetçi eczaneler ve bazı kütüphaneler yirmi dört saat hizmet vermektedir.
- Düğün, davet gibi sosyal faaliyetlerini güneş battıktan sonra bile yapılabilir.
- Kültürel ve sportif faaliyetler akşamları stat ve salonlarda yapılabilir.
- Sokakların aydınlatılmasıyla geceleri daha güvenli bir şekilde sokakta, caddede yürülmektedir.
- Ambulans, itfaiye ve polis araçlarında farklı renklerde aydınlatmalar kullanılmaktadır. Kullanılan bu aydınlatmalar çevredeki insanları uyarmaktadır.
- Trafik lambaları da günlük yaşamımızı kolaylaştırmaktadır.

Hürriyet İlkokulu 4.Sınıf Ev Çalışma Kâğıdı

TÜRKÇE

Aşağıdaki yazıyı ve şiiri Türkçe defterinize yazınız

Orman Haftası (21 -26 Mart)

Ormanlar insan hayatı için büyük önem ifade eder. Ormanlardan hem yasamamız için gerekli oksijeni alırız hem de günlük hayatta birçok faydalı alanda kullanırız. Fakat ormanlar dikkatsizlik sonucu büyük zararlara uğrayabilir. Bilinçli ya da bilinçsiz ağaç kesimi veya orman yangınlarını önlemek için bir çok kişi veya kuruluş caba sarf etmektedir.

Orman haftası ise 21-26 Mart tarihleri arasında kutlanır. Amacı yeni nesillere ormanların önemini anlatmaktır. Aynı zamanda ağaç bayramı olarak da bilinir. Dünyanın geleceği ormanlara bağlı olduğundan dolayı onların önemini ve yerini vurgulamak adına okullarda ve çeşitli yerlerde etkinlikler düzenlenerek anlatılır.

Ormanlar gelecek nesillere bırakabileceğimiz en güzel doğal miraslarımızdandır. Bunları bilerek bilinçlenmek ormanları korumak onlara zarar gelmesini önlemek hepimize düşen önemli bir insanlık görevidir. Ormanların yok olması beraberinde doğal afetleri getirerek zararları inanılmaz boyutta büyük olabiliyor. Bizler ağaçlara, ormanlara ve bitkilere sahip çıkarak bunların zarar görmesini önlemeliyiz.

AĞAÇLARIMIZ

Ağaçlar da insanlar gibi
Seveni olur, sevmeyeni...

Keserseniz ağlarlar


Tıpkı dövülen insanlar gibi.

Ağaçlar da insanlar gibidir,

Onlar da çalışır, durmadan.

Ve hepsi de yararlıdır,

Örnek bir insan gibi.



Türküler söyler gelince bahar,

Yaza, kışa hazırlık yaparlar,

Ağaçların da var yürekleri,

Ağaçlar da tıpkı bizler gibi.

Korunmalı ağaçları,

Ormanlar yetiştirmeli,

Yakmadan, kesmeden çoğaltmalı.

İnsanları sever gibi, ağaçları da sevmeli.

Behçet NECATİGİL

1-Şair kesilen ağaçları neye benzetiyor?.....

2-İkinci dördlüğü düz yazı şeklinde yeniden yazın.....

3-Şaire göre bahar gelince ağaçlar ne yapar?.....

4-Son dördlükte şair insanlara neler tavsiye ediyor?.....

5-Size göre ormanların faydaları nelerdir?.....

4.SINIF-TÜRKÇE SÖZCÜĞÜN YAPISI TEST

1) "karıncaların" kelimesinin kökü aşağıdakilerden hangisidir?

- A) karınca B) karın C)karı D) kar

2) "-lik" eki aşağıdaki kelimelerden hangisine soyut anlam kazandırmamıştır?

- A) iyilik B) kardeşlik C) gözlük D) mutluluk

3) Aşağıdaki altı çizili kelimelerin hangisi ismin hal eklerinden birini almıştır?

- A) Hasta adamı doktora götürdüler. B) İngiltere ada ülkelerinden biridir.
C) Kuşu kafesten salıverin. D) Acı biber ağzımı yaktı.

4) Aşağıdakilerden hangisi basit kelimedir?

- A) para B) dalgıçlar C) içli D) duygular

5)Aşağıdaki kelimelerden hangisi sözlükte önce gelir?

- A) budak B) bucak C) bulanık D) budama

6) Aşağıdaki kelimelerden hangisinin aldığı yapım eki sayısı diğerlerinden farklıdır?

- A) yazıcılık B) gözlükçülük C) imkansızlık D) korkusuzluk

7) Aşağıdaki kelimelerden hangisi yapım eki almamıştır?

- A) akli B) altışar C) sözlük D) beş

8) Aşağıdaki kelimelerden hangisi hem yapım hem çekim eki almıştır?

- A) öğrenci B) kömürlük C) sabahçı D) gözlükler

9) Aşağıdaki hangisi hecelerine yanlış ayrılmıştır?

- A) bu-la-şık-çı B) ha-nı-me-li C) sac-a-ya-ğı D) ta-kı-ma-da

10) "Saygılarımla" kelimesinin kökü aşağıdakilerden hangisidir?

- A) saygı B) say C) saygılar D) saygılarım

11) "Çocukluk yıllarımı hiçbir zaman unutamıyorum." cümlesinde türemiş kelime aşağıdakilerden hangisidir?

- A) unutamıyorum B) hiçbir C) yıllarını D) çocukluk

12) Aşağıdaki kelimelerin hangisi çekim eki almıştır?

- A) göz-lük-çü B) su-suz-luk C) bil-gi-li D) ba-lık-çı-lar

13) "-ler, -lar" eki hangi cümlede "gil" anlamında kullanılmıştır?

- A) Gözler yalan söylemez. B) Burada günler çok hızlı geçer.
C) Yarın Zeynep'leri de çağırırız. D) Hamdi Beyler Çokoprens almaya gittiler.

HÜRRİYET İLKOKULU UZAKTAN EĞİTİM
TÜRKÇE DERSİ 1. TEST

Adı Soyadı :

Sınıfı : No : Puan :

1.) "Ayağını yorganına göre uzat" atasözünde bize neyi öğütlemektedir?

- A.) Tutumlu olmak
B.) Yardımlaşmak
C.) Ayağına iyi bakmak
D.) Çalışmak.

2.) " Yeni aldığım arabayı tamirciye"
cümlesi hangi kelime ile tamamlanırsa gelecekte yapılacak bir işi bildirir?

- A.) Götürdüm B.) Götürüyorum
C.) Götüreceğim D.) Götürmüştüm

I- sağlığın II- bilmez III- olmayan
IV- kıymetini V- hasta

3.) Yukarıdaki sözcüklerle anlamlı ve kurallı bir cümle oluşturulduğunda sıralama nasıl olur?

- A.) V-III-I-IV-II
B.) V-IV-I-III-I
C.) I-III-IV-II-V
D.) IV-I-II-III-V

4.) Aşağıdaki cümlelerin hangisinde sebep-sonuç ilişkisi **yoktur**?

- A.) Hasta olduğu için okula gelemedi.
B.) Beni aradığın için çok mutlu oldum.
C.) Doğum günü olduğu için heyecanlıydı.
D.) Sana söylenecek bir çift sözüm var.

Pamuğum, Karabaşım, Minik serçe
Aklımıza gelmeseniz haliniz nice
Nerden bulup yersiniz veya içersiniz?
Eğer sizi düşünen insanlar olmasa
Nasıl koşar, uçar, eğlenirsiniz?

5.) Yukarıdaki şiirin ana duygusu hangisidir?

- A.) Sokak kedileri.
B.) Serçenin ihtiyaçları.
C.) Hayvanlara karşı duyarlılık.
D.) Evcil hayvanlar.

6.) Aşağıda verilen tarihlerin hangisinin yazılışı doğrudur?

- A.) 13 Ocak 2016 B.) 13 ocak 2016
C.) 13,06,2016 D.) 13.Ocak.2016

Köpek balıklarının yaklaşık üç yüz seksen türü vardır. Ülkemizdeki denizlerde de yirmi yedi tür köpek balığı vardır. Ancak ülkemizdekiler oldukça derinlerde yaşadıkları için insanlar için zararsızdırlar. En büyük köpek balığı yirmi metrelik uzunluğu ile balina köpek balığıdır.

7.) Yukarıdaki metnin türü nedir?

- A.) Öyküleyici (hikaye edici) B.) Şiir
C.) Bilgilendirici D.) Karikatür

8.) Aşağıdaki sözcüklerden hangisi terim anlamlı **değildir**?

- A.) Penaltı B.) Ritim
C.) Park D.) Röntgen

9.) Altı çizili sözcüklerden hangisi gerçek anlamıyla kullanılmıştır?

- A.) Sonunda öğretmenin **gözüne** girdim.
B.) **İnce** davranışlarıyla hepimizi etkiledi.
C.) Alican, **renkli** bir kişiliğe sahipti.
D.) **Sıcak** sobanın yanında uyuyakalmışım.

10.) "Otobüsümüz, saat beşte otogardan Ankara'ya hareket edecek."cümlesinde hangi sorunun yanıtı yoktur?

- A.) Nereden? B.) Nasıl?
C.) Ne zaman? D.) Nereye?

1. Günaydın, dedim.
2. Okula gittiğimde herkes bahçedeydi.
3. Kahvaltımı yaptım.
4. Annem de kalkmıştı.
5. Sabah güneşin ilk ışıklarıyla uyandım.
6. Günaydın, kahvaltı hazır, dedi.

11.) Yukarıdaki cümleleri oluş sırasına göre sıralarsak sıralama nasıl olur?

- A.) 1, 2, 3, 4, 5, 6 B.) 4, 1, 6, 5, 3, 2
C.) 5, 4, 1, 6, 3, 2 D.) 5, 4, 1, 2, 3, 6

12.) "Kahvaltıda çay süt içebilirsin."
cümlesinde noktalı yere aşağıdakilerden hangisi yazılmalıdır?

- A.) Ancak B.) Ama

ISTEKLER VE İHTİYAÇLAR-TEST

1)İhtiyaçlarımızı ve isteklerimizi karşılarken en çok neye dikkat etmeliyiz ?

- A) İsteklerimizi karşılamaya
- B) Zevkimize
- C) Bütçemize
- D) Mutluluğumuza

2)“ Yalnızca ihtiyaçlarımı karşılayacak bir liste yaptım.”

Yukarıdaki cümleye göre Ege'nin alışveriş listesinde hangisini göremeyiz ?

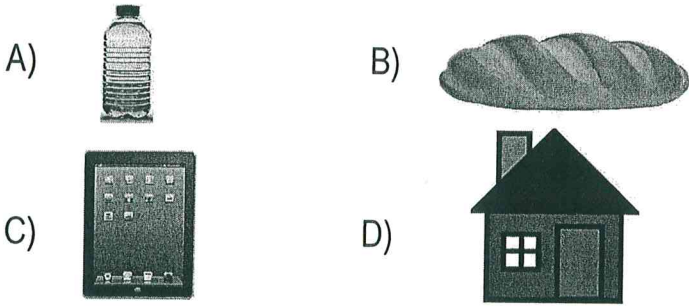
- A) Su B) Ekmek C) Meyve-sebze D) Cips

3) I : Barınma II : Oyuncak alma
III :Yeme-içme IV :Geziye gitme

Yukarıdakilerden hangisi ya da hangileri zorunlu ihtiyaçlarımızdandır ?

- A)I ve IIB) I ve III
- C) II ve III D) II ve IV

4) Aşağıdaki görsellerden hangisi temel ihtiyaçlarımızdan hangisi değildir ?



5) Aşağıdaki bilgilerden hangisi yanlıştır ?

- A)İhtiyaçlarımızı karşılarken zorunlu ihtiyaçlarımıza öncelik vermeliyiz.
- B) Bütçemize uygun şekilde alışveriş yapmalıyız.
- C) İhtiyaçlarımızı önem sırasına koymalıyız.
- D) Temel ihtiyaçlarımızdan önce isteklerimizi karşılamalıyız.

6)Aşağıdakilerden hangisi sosyal ihtiyaçlarımızdan değildir ?

- A) Gazete okumak B) Yemek yemek
- C) Sinemaya gitmek D) Tatile çıkmak

7)İnsanlar uzun süre yemek yemeden su içmeden yaşayamazlar.

Bu bilgi, aşağıdaki ifadelerden hangisini destekler.

- A) İnsanların ihtiyaçlarının yanı sıra istekleri de vardır.
- B) Temel ihtiyaçlar hayati öneme sahiptir.
- C) Evimizdeki her şey ihtiyaçtır.
- D) İnsanlar ihtiyaçlarını gerçekleştirmeye çalışır.

8)Yiyecekler,hem ihtiyaç hem de istek olabilir.

Buna göre,aşağıdaki yiyeceklerden hangisi istek olarak kabul edilebilir.

- A) Yumurta
- B) Meyve
- C) Dondurma
- D) Et

9)Aşağıdakilerden hangisi ihtiyaç değil de istektir ?

- A) Kahvaltı yapmak
- B) Yeterince su içmek
- C) Bilgisayarla oynamak
- D) Taze sebze yemek

10) I : Sosyal ihtiyaçlar
II : İstekler
III :Temel ihtiyaçlar

Mutlu ve sağlıklı bir yaşam sürdürmek için yukarıdakilerin hayatımızdaki öncelik sırası hangi seçenekteki gibi olmalıdır ?


- A)I - II- III B) II -I - III
- C) III - II - I D) III - I -II

MATEMATİK ÇALIŞMA KAĞIDI

<p>1-Aşağıdaki sayısal saatlerin gösterdiği zamanları , akrep ve yelkovanlı saate göre yazınız.Öğleden önce veya öğleden sonraki zamana mı ait olduğunu belirtiniz.</p> <ul style="list-style-type: none">✓ 22:26=✓ 04:39=✓ 15:47=✓ 19:19=✓ 17:56=✓ 01:05=	<p>2-Aşağıda verilen süreleri dakikaya çeviriniz.</p> <ul style="list-style-type: none">✓ 7 saat 47 dakika=✓ 12 saat=✓ 5 saat 5 dakika=
<p>3-Bir futbol karşılaşmasının süresi bir buçuk saattir.Verilen süreyi dakikaya çeviriniz.</p>	<p>4-Aşağıda verilen süreleri saniyeye çeviriniz.</p> <ul style="list-style-type: none">✓ 43 dakika=✓ 138 dakika 57 saniye=✓ 203 dakika 3 saniye=
<p>5-Can , eviyle okulu arasındaki yolu 13 dakika 3 saniyede yürümüştür.Can 'ın yürüdüğü süre kaç saniyedir ?</p>	<p>6-.Evimizde 28 ay taksitle yeni oturma grubu alındı.İçinde bulunduğumuz aydan başlamak üzere her ayın 20'sinde taksitlerin ödenmesi gerekiyor Son taksit hangi yılda ve hangi ayda ödenecektir ?Ödeme kaç yıl sürecektir ?</p>
<p>7-1995 yılında doğan Kübra , 2009 yılının haziran ayında 8. sınıfını bitirecek.Kübra 2009 yılında kaç yaşında olacaktır ?</p>	<p>8-19 Mart günü alınan ayakkabıyı hangi tarihte iade edebilirim?(15 gün iade süresi vardır .)</p>
<p>9-Kanuni sultan Süleyman 45 yıl , Fatih Sultan Mehmet 31 yıl Osmanlı Devleti'nde Padişah olarak kalmışlardır.Kanuni sultan Süleyman , Fatih sultan Mehmet 'ten kaç ay daha fazla padişahlık yapmıştır ?</p>	<p>10-Selcan her gün 1 saat 15 dakika keman dersi almaktadır.Selcan , bir haftada kaç dakika keman dersi almış olur ?</p>

Zamanımı nasıl değerlendiresem acaba?

Zamanımı verimli geçirmeliyim.



BASLIYORUZ!

1 Bahar geldi. Kendime bir deney saksısı yapabilirim. Deney saksısı da ne? Büyük bir saksıya yediğin meyvelerin, sebzelerin çekirdeklerini ek. Haftada 2 kez sula. Bakalım saksıda hangileri büyüyecek.



2

Evimde giilmeyen kıyafetleri toplarım. Tabii herkesin izniyle. Giyilebilir olanları ayırıp, geri kalanlarla sahneleyeceğim oyunuma kostüm hazırlarım.



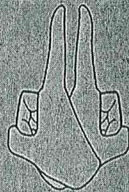
3

Evimizin önüne her gün sokak hayvanları için su ve yiyecek koyabilirim.



4

İşaret dili alfabetini araştırabilirim. Her harfin, ellerle yapabileceğin bir işareti var. İşaretlerle konuşabilirim.



5

Mutfağımızdaki baharatları öğrenebilirim. Ete, yoğurda kekik çok yakışıyor muş. Kekik ne ki?

